


合体問題


Q6

※2つの図形を同時に作る問題です。
【解答数】3通り


【使用ピース】以下の10ピース




piece#1




piece#2




piece#3




piece#4




piece#5




piece#6




piece#7




piece#8




piece#9



piece#10



*立体図形は
イメージサイズ



EASY CUBE BLUE PINK