



ここから58ページまでは、「ふえるといくつ」という、たし算の場面を学習します。

		なまえ
がつ	にち	





ふえると なんびきに なりますか。

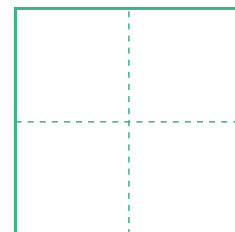
 に すうじを かきましょう。

はじめの かず

ふえた かず





みんなで



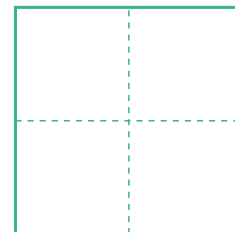
びき

はじめの かず

ふえた かず





みんなで



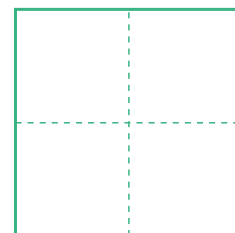
びき

はじめの かず

ふえた かず



みんなで



びき



式の計算の学習です。ここでは、理解を助けるため、具体物を式にそえてあります。徐々に、数字だけの式に近づけていきます。

がつ


にち

なまえ

がんばり
シール

たしざんを しましょう。

 に すうじを かきましょう。



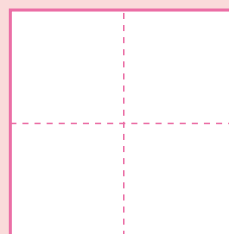
5

+



1

=




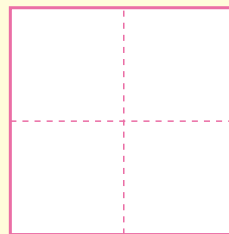
5

+




2

=




5

+



3

=




5

+



4

=





4匹の動物それぞれ、公園までの道をたどりましょう。

がつ

にち

なまえ

がんばり
シール

しきの こたえが 8 の みちを とおって、 こうえんへ
いきましょう。 → から → まで すすみましょう。

