



## 8 しきをつくろう

がんばり  
しいる  
シール

がつ にち



あわせて いくつでしょう。  
たしざんの しきをつくりましょう。



しき

+

=



しき

+

=

## 32 たしざんの れんしゅう

がんばり  
シール

がつ にち

たしざんを しましょう。



$$4 + 5 = \square$$



$$1 + 6 = \square$$



$$3 + 7 = \square$$

# 46 あわせて いくつ？

がんばり  
しゅう  
じゅう

がつ にち

しきと こたえを かきましょう。

- 1 あめが おさらに 6こ、  
ふくろに 2こ あります。  
ぜんぶで なんこ ありますか。




しき  +  =

こたえ  こ

- 2 あおい かさが 4ほん、  
あかい かさが 5ほん あります。  
かさは ぜんぶで なんほん ありますか。

しき  +  =



こたえ  ほん